

# Fizika 2i, tavaszi félév, 4. gyakorlat - MEGOLDÁS

## Órai munkára javasolt feladatok

**F1\***. a) A szűrőben az ionok irány- és sebességváltozás nélkül haladnak, vagyis a rájuk ható erők eredője nulla, tehát az elektromos mező által kifejtett erőt kompenzálja a Lorentz-erő:

$$qE_0 = qvB_0 \rightarrow v = \frac{E_0}{B_0} = 6 \cdot 10^5 \frac{\text{m}}{\text{s}}.$$

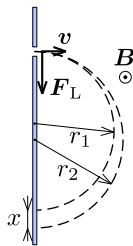
b) Beérve a  $\mathbf{B}$  indukciójú mágneses mezőbe, az ionok körpályán haladnak a Lorentz-erő hatására:

$$qvB = m \frac{v^2}{r}.$$

Innen a körpálya sugara:

$$r = \frac{mv}{qB}.$$

Látható, hogy a nagyobb tömegű ion (7-es tömegszámú) nagyobb sugarú körpályán mozog (mindkét ion töltése azonos, mert egyszeresen ionizáltak, azaz elektrontöbbletük vagy -hiányuk van). Mivel belépéskor a Lorentz-erő lefelé hat és  $\mathbf{B}$  a papír síkjából kifelé mutat, ezért a jobbkéz-szabály alapján megállapíthatjuk, hogy az ionok pozitív töltésűek, tehát  $q = 1,6 \cdot 10^{-19} \text{ C}$ .

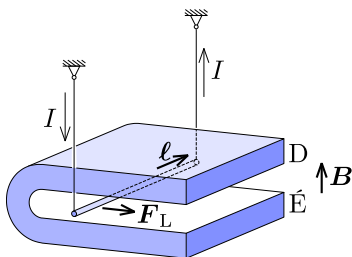


A fotolemezen a két ion becsapódási helyének távolsága:

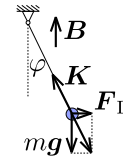
$$x = 2(r_2 - r_1) = \frac{2v}{qB} (m_2 - m_1) = \frac{2m_p v}{qB} \approx 0,13 \text{ m},$$

ahol  $m_p = 1,67 \cdot 10^{-27} \text{ kg}$  a proton tömege.

**F2.** Az áramjárta rúdra Lorentz-erő hat:  $\mathbf{F}_L = I\mathbf{l} \times \mathbf{B}$ . A jobbkéz-szabály alapján megállapíthatjuk, hogy jobbra térül ki a rúd.



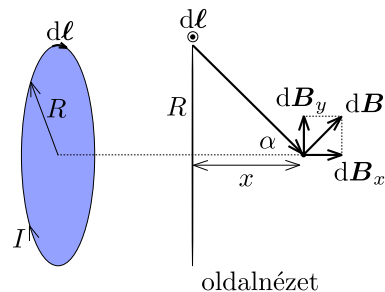
A rúdra ható Lorentz-erő a mozgás során állandó, mivel az áramerősség is állandó. Az egyensúlyi helyzetet az alábbi ábra mutatja oldalnézetből.



Ebben a helyzetben az  $mg$  és az  $F_L$  erők eredője kötélirányú, azaz:

$$\tan \varphi = \frac{F_L}{mg} = \frac{IlB}{mg} \rightarrow \varphi \approx 14^\circ.$$

**F3\***. Az ábrán oldalnézetből láthatjuk a körvezető legfelső, kicsiny  $d\mathbf{l}$  ívelemvektorától származó elemi  $d\mathbf{B}$  indukcióvektort a körvezető szimmetriatengelyén, a középponttól  $x$  távolságra.



Az elemi indukcióvektort a Biot-Savart-törvényből kapjuk meg:

$$d\mathbf{B} = \frac{\mu_0 I}{4\pi} \frac{d\mathbf{l} \times \mathbf{r}}{r^3}.$$

Az irányt ismét a jobbkéz-szabály szerint adhatjuk meg.

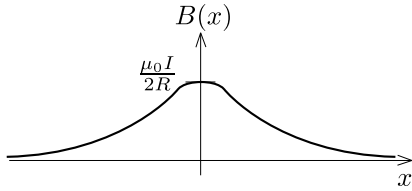
A teljes indukcióvektorhoz a körvonal mentén lévő összes ívelem járulékát kell vektorosan összegezni. Mivel a körvonal összes pontja ugyanakkora  $r$  távolságra van a vizsgált ponttól, mindegyik ívelem ugyanakkora nagyságú mágneses indukciót eredményez. Azonban az irány változik, a  $d\mathbf{B}$  vektorok egy  $180^\circ - \alpha$  félnyílás-szögű kúppaláston forognak körbe. Tehát ha felbontjuk az elemi indukcióvektorokat  $x$ - és  $y$ -irányú komponensekre, akkor összegezve csak az  $x$ -irányú komponens marad meg, azaz az eredő indukcióvektor is ilyen irányú lesz. Az  $x$ -irányú elemi indukcióvektor nagysága:

$$dB_x = \frac{\mu_0 I}{4\pi} \frac{dl \cdot r}{r^3} \cdot \sin \alpha = \frac{\mu_0 I}{4\pi} \frac{dl}{r^2} \cdot \frac{R}{\sqrt{R^2 + x^2}}.$$

Ha ezt a teljes körvonalra összegezzük, akkor csak a  $dl$  ívelemeket kell összeadni, aminek eredménye a kör kerülete,  $2R\pi$ . Ezzel a mágneses indukció a tengelyen ( $r = \sqrt{R^2 + x^2}$ ):

$$B(x) = \frac{\mu_0 R^2 I}{2(R^2 + x^2)^{3/2}}.$$

Ez a függvény nagyon nagy  $x$ -re nullához tart, legnagyobb értékét az  $x = 0$  helyen veszi fel.

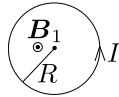


**F4\***. Bármelyik esetet is tekintjük a mágneses indukciót a szuperpozíció-elvvel adhatjuk meg: az adott pontban a körvezetőtől és a végtelen hosszú, egyenes vezetőtől származó mágneses indukciót összeadjuk figyelve az irányukra.

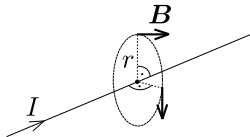
A körvezető középpontjában a mágneses indukció az előző feladat eredménye alapján ( $x = 0$ ):

$$B_1 = \frac{\mu_0 I}{2R},$$

irányát a jobbkéz-csavar adja meg, azaz a hüvelykuj mutat az áram irányába, a többi behajlított ujj pedig a mágneses indukció irányát mutatja. Tehát az ábra szerint a középpontban az indukcióvektor a papír síkjából, arra merőlegesen kifelé mutat.



A hosszú, egyenes vezető mágneses terét az Ampère-féle gerjesztési törvényből kapjuk. Az elrendezés hengersizmetriája miatt a vezetőre merőleges síkban, a vezető körüli  $r$  távolságban a mágneses indukció nagysága ugyanakkora, irányát ismét a jobbkéz-csavar határozza meg.



$$B_2(r) \cdot 2r\pi = \mu_0 I \rightarrow B_2(r) = \frac{\mu_0 I}{2\pi r}$$

Az  $a$ ) elrendezésben a körvezető középpontjában mindkét mágneses indukcióvektor a papír síkjából kifelé mutat, vagyis itt a mágneses indukció nagysága:

$$B_a = B_1 + B_2(R) = \frac{\mu_0 I}{2R} \left( 1 + \frac{1}{\pi} \right) \approx 1,1 \cdot 10^{-4} \text{ T.}$$

A  $b$ ) esetben a hurokbeli áram iránya ellentétes, azaz  $B_1$  is ellentétes irányú lesz. Mivel  $B_1 > B_2(R)$ , ezért most a hurok középpontjában a mágneses indukció a papír síkjára merőlegesen befelé mutat, nagysága pedig

$$B_b = B_1 - B_2(R) = \frac{\mu_0 I}{2R} \left( 1 - \frac{1}{\pi} \right) \approx 5,7 \cdot 10^{-5} \text{ T.}$$

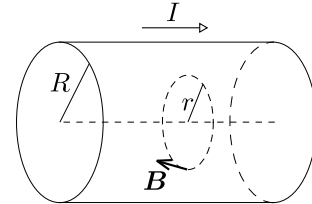
Ha a hurok síkját elforgatjuk úgy, hogy merőleges legyen a vezetékre, akkor  $B_1$  is vele együtt fordul el. Tehát bármelyik elrendezést is tekintjük a teljes

mágneses indukció nagysága a hurok középpontjában ugyanakkora lesz (az irányuk különböző):

$$B'_{a,b} = \sqrt{B_1^2 + B_2(R)^2} = \frac{\mu_0 I}{2R} \sqrt{1 + \frac{1}{\pi^2}} \approx 8,8 \cdot 10^{-5} \text{ T.}$$

**F5\***. Ha az áramerősség eloszlása homogén, akkor a vezetőben a tengelye körül vett  $r < R$  sugarú hengerben az áramerősség a henger keresztmetszetének felületével arányosan kisebb:

$$I(r) = I \cdot \frac{r^2}{R^2}.$$



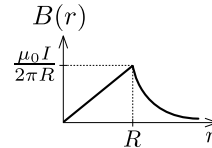
Az Ampère-féle gerjesztési törvény az  $r \leq R$  esetben (csak a hengeren belüli áram számít):

$$B(r) \cdot 2r\pi = \mu_0 I(r) \rightarrow B(r) = \frac{\mu_0 I}{2\pi R^2} \cdot r.$$

Ha pedig  $r > R$ , akkor a már megismert, hosszú vezeték körüli mágneses teret kapjuk:

$$B(r) = \frac{\mu_0 I}{2\pi r}$$

Az alábbi ábra a mágneses indukció nagyságát mutatja  $r$  függvényében.



**F6\***.  $a$ ) A cső körülfordulási ideje  $T = 2\pi/\omega$ . A mozgó töltésektől származó áramerősség a cső  $\ell$  hosszúságú darabjának felületén:

$$I = \frac{\lambda \ell}{T} = \frac{\lambda \ell \omega}{2\pi}.$$

A forgó csövet elképzelhetjük úgy, mint egy szolenoidot: a cső felületén sok, párhuzamos, vékony áramvonal van jelen ( $\ell$  hosszúságú darabon összesen  $I$  áram folyik). Az így tekintett szolenoid belsejében a mágneses indukció nagysága az Ampère-féle gerjesztési törvény szerint (kívül nincs mágneses tér):

$$B\ell = \mu_0 I \rightarrow B = \frac{\mu_0 I}{\ell}.$$

Felhasználva  $I$  fenti kifejezését:

$$B = \frac{\mu_0 \lambda \omega}{2\pi} = 3 \cdot 10^{-12} \text{ T.}$$

$b$ ) Ismét a mozgó töltésektől származó áramerősség:

$$I = \frac{\Delta Q}{\Delta t} = \frac{\lambda \cdot \Delta \ell}{\Delta t} = \lambda v.$$

A mozgó rudat hosszú, egyenes vezetőnek gondolhatjuk, így alkalmazhatjuk az arra érvényes formulát a mágneses indukció kiszámításához:

$$B = \frac{\mu_0 I}{2\pi r} = \frac{\mu_0 \lambda v}{2\pi r} = 2 \cdot 10^{-9} \text{ T.}$$

**F7\*\*.** *a)* Egy  $N$  menetes,  $L$  hosszúságú, áramjárta szolenoid belsejében a mágneses indukció nagysága:

$$B_0 = \frac{\mu_0 N I}{L}.$$

Jelölje  $B_P$  a hosszú szolenoid végén, a tengelyen lévő pontban a mágneses indukció nagyságát. Ha két félvégteles szolenoidot összeillesztünk, akkor egy végteles szolenoidot kapunk. Tehát a szuperpozíciós elvnek megfelelően  $B_0 = 2B_P$ , azaz a kérdéses pontban a mágneses indukció nagysága:

$$B_P = \frac{B_0}{2}.$$

*b)* A tengelyre merőleges,  $A = R^2\pi$  területű körlapon átmenő fluxus  $\Phi_0 = B_0 A$ . Az *a)* részben használt gondolatnak megfelelően, a tekercs végén a fluxus ennek a fele, tehát:

$$\Phi = \frac{B_0 R^2 \pi}{2}.$$

A fluxus másik fele a szolenoid palástján szökik ki.